


NOM ET PRÉNOM

CLASSE

RÉPONSE

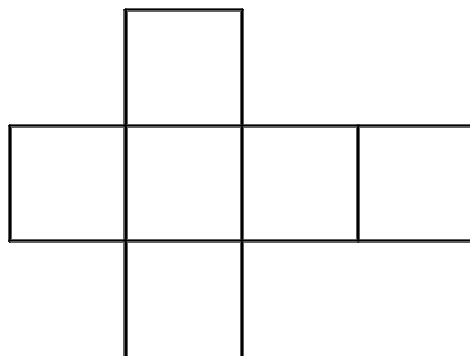
Nombre de zéros :




NOM ET PRÉNOM

CLASSE

RÉPONSE



Complète le patron ci-dessus.




NOM ET PRÉNOM

CLASSE

RÉPONSE

Nombre de tiercés palindromes :



NOM ET PRÉNOM

CLASSE


RÉPONSE

Il y acubes d'arêtecm.

Il y acubes d'arêtecm.

Il y acubes d'arêtecm.

Il y acubes d'arêtecm.




NOM ET PRÉNOM

CLASSE

La pendule et le réveil ont été mis à l'heure à :


RÉPONSE

..... h..... min



NOM ET PRÉNOM

CLASSE



Dessine les rectangles solutions dans le quadrillage ci- dessus.